

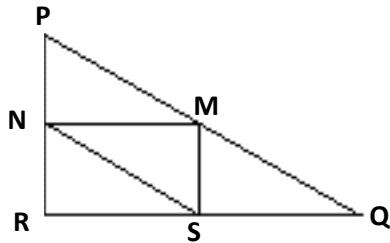
TRIANGLES

Question 1

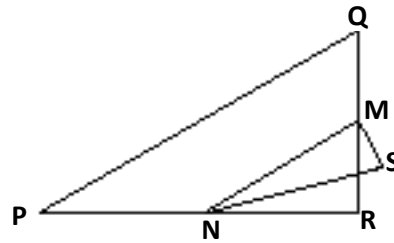
Entourez, parmi les figures présentées ci-dessous, la seule qui correspond à la description suivante :

Le triangle PQR est un triangle rectangle dont le sommet de l'angle droit est R. Le segment [RQ] est moins long que le segment [PR]. M est le milieu du segment [PQ] et N est le milieu du segment [QR]. S est un point à l'intérieur du triangle. Le segment [MN] est plus long que le segment [MS].

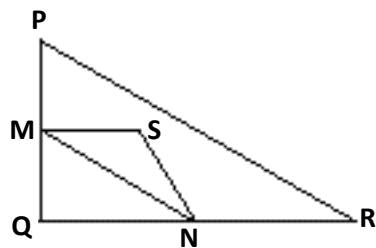
A



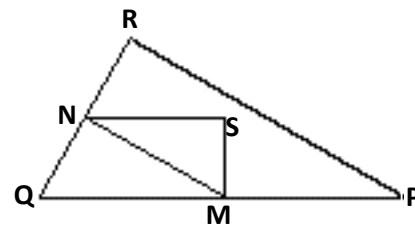
B



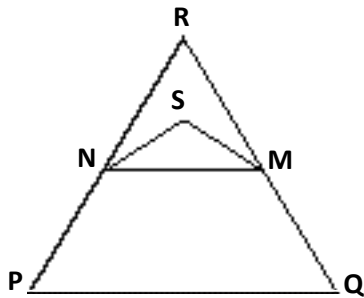
C



D



E



TRIANGLES : CONSIGNES DE CORRECTION QUESTION 1

Crédit complet

Code 1 : D.

Pas de crédit

Code 0 : Autres réponses.

Code 9 : Omission.