






---

## PLANCHE À ROULETTES

Éric est un grand amateur de planche à roulettes. Il se rend dans un magasin du nom de SKATERS pour vérifier quelques prix.

Dans ce magasin, il est possible d'acheter une planche à roulettes complète. Ou bien on peut acheter une planche, un jeu de 4 roulettes, un jeu de 2 axes ainsi que les accessoires, et monter soi-même sa planche à roulettes.

Les prix des articles mis en vente par ce magasin sont les suivants :

Article	Prix en zeds	
Planche à roulette complète	82 ou 84	
Planche	40, 60 ou 65	
Un jeu de 4 roulettes	14 ou 36	
Un jeu de 2 axes	16	
Un jeu d'accessoires (roulements à bille, cales en caoutchouc, écrous et vis)	10 ou 20	

---

## PLANCHE À ROULETTES

### Question 1

Éric veut monter lui-même sa planche à roulettes. Quel est le prix minimum et le prix maximum des planches à roulettes à monter soi-même dans ce magasin ?

(a) Prix minimum : ..... zeds.

(b) Prix maximum : ..... zeds.

### PLANCHE À ROULETTES : CONSIGNES DE CORRECTION QUESTION 1

#### ***Crédit complet***

Code 21 : Le minimum (80) et le maximum (137) sont tous les deux corrects.

#### ***Crédit Partiel***

Code 11 : Seul le minimum (80) est correct.

Code 12 : Seul le maximum (137) est correct.

#### ***Pas de crédit***

Code 00 : Autres réponses.

Code 99 : Omission.

---

## PLANCHE À ROULETTES

### Question 2

Le magasin propose trois types de planche différents, deux jeux de roulettes différents et deux jeux d'accessoires différents. Il n'y a qu'un seul choix possible pour le jeu d'axes.

Combien de planches à roulettes différentes Éric peut-il monter ?

- A 6
- B 8
- C 10
- D 12

### PLANCHE À ROULETTES : CONSIGNES DE CORRECTION QUESTION 2

#### ***Crédit complet***

Code 1 : D 12.

#### ***Pas de crédit***

Code 0 : Autres réponses.

Code 9 : Omission.

---

## PLANCHE À ROULETTES

### Question 3

Éric peut dépenser 120 zeds et il veut acheter la planche à roulette la plus chère qu'il peut obtenir avec l'argent dont il dispose.

Combien d'argent Éric peut-il se permettre de dépenser pour chacun des 4 éléments ? Inscrivez vos réponses dans le tableau ci-dessous.

Élément	Montant (zeds)
Planche	
Roulettes	
Axes	
Accessoires	

### PLANCHE À ROULETTES : CONSIGNES DE CORRECTION QUESTION 3

#### ***Crédit complet***

Code 1 : 65 zeds pour la planche, 14 pour les roulettes, 16 pour les axes et 20 pour les accessoires.

#### ***Pas de crédit***

Code 0 : Autres réponses.

Code 9 : Omission.