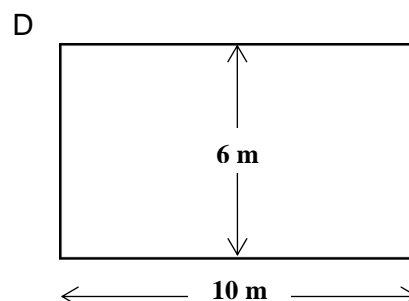
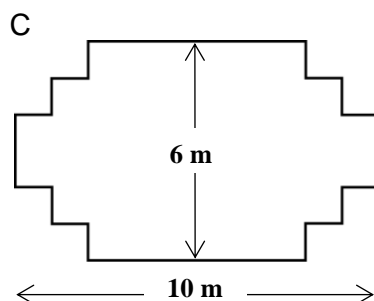
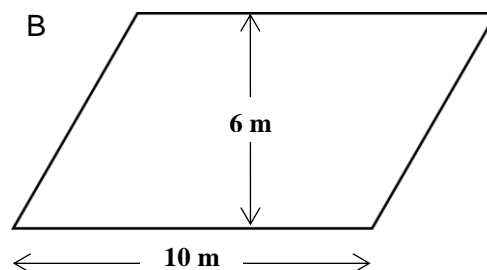
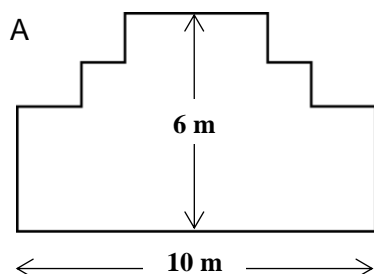

MENUISIER

Un menuisier dispose de 32 mètres de planches et souhaite s'en servir pour faire la bordure d'une plate-bande dans un jardin. Il envisage d'utiliser un des tracés suivants pour cette bordure :



MENUISIER

Question 1

Indiquez, pour chacun des tracés, s'il peut être réalisé avec les 32 mètres de planches. Répondez en entourant « Oui » ou « Non ».

Tracé de la bordure	En utilisant ce tracé, peut-on réaliser la plate-bande avec 32 mètres de planches ?
Tracé A	Oui / Non
Tracé B	Oui / Non
Tracé C	Oui / Non
Tracé D	Oui / Non

MENUISIER : CONSIGNES DE CORRECTION Question 1

Crédit complet

Code 2 : Quatre réponses correctes.

Schéma A : Oui.

Schéma B : Non.

Schéma C : Oui.

Schéma D : Oui.

Crédit partiel

Code 1 : Trois réponses correctes.

Pas de crédit

Code 0 : Deux réponses correctes ou moins.

Code 9 : Omission.